



UNIVERSITAT D'ALACANT
UNIVERSIDAD DE ALICANTE



UNIVERSITAT JAUME I
DE CASTELLÓ



UNIVERSITAT MIGUEL HERNÁNDEZ DE ELX
UNIVERSIDAD MIGUEL HERNÁNDEZ DE ELCHE



UNIVERSITAT DE VALÈNCIA
(ESTUDI GENERAL)



UNIVERSITAT POLITÈCNICA DE VALÈNCIA
UNIVERSIDAD POLITÉCNICA DE VALÈNCIA



PROVES D'ACCÉS A FACULTATS, ESCOLES TÈCNiques SUPERIORS I COL·LEGIS UNIVERSITARIS
PRUEBAS DE ACCESO A FACULTADES, ESCUELAS TÉCNICAS SUPERIORES Y COLEGIOS UNIVERSITARIOS

CONVOCATÒRIA DE _____

CONVOCATORIA DE _____

SETEMBRE / SEPTIEMBRE 2000

MODALITAT DEL BATXILLERAT (LOGSE): d'Humanitats i Ciències Socials
MODALIDAD DEL BACHILLERATO (LOGSE): de Humanidades y Ciencias Sociales

IMPORTANT / IMPORTANTE

2n exercici 2º ejercicio	GEOGRAFIA GEOGRAFÍA	Obligatòria en l'opció de Ciències Socials i optativa en altres Obligatoria en la opción de Ciencias Sociales y optativa en otras	90 minuts 90 minutos
Barem/Baremo:		2,5 punts per pregunta / 2,5 puntos por pregunta	
Trieu un dels dos exercicis proposats			
Elige uno de los dos ejercicios propuestos			

EXERCICI 1

1. Identifiqueu els elements més destacats del mapa del temps que apareix adjunt (document 1).
2. Si la situació més freqüent, pel que fa a la penetració de les borrasques atlàntiques sobre el la península Ibèrica, és la que ofereix el mapa del document 1, expliqueu, raonant-ho, el repartiment de precipitacions mitjanes anuals del document 2.
3. Si compareu el mapa de precipitacions mitjanes anuals amb la informació del document 3, referent al relleu peninsular, quines conclusions podeu traure'n?
4. Amb les idees i les reflexions de les qüestions anteriors i amb els coneixements que tingueu, elaboreu un informe sobre els factors geogràfics del clima peninsular.

EJERCICIO 1

1. Identifica los elementos más destacados del "Mapa del Tiempo" que se adjunta (Documento 1).
2. Si la situación más frecuente, en lo referente a la penetración de las borrascas atlánticas sobre el solar peninsular, es la que ofrece el mapa del Documento 1. Explica, razonándolo, el reparto de precipitaciones medias anuales del Documento 2.
3. Si comparas el mapa de precipitaciones medias anuales con la información del Documento 3, referente al relieve peninsular, ¿qué conclusiones puedes obtener?
4. Con las ideas y reflexiones de las cuestiones anteriores y con los conocimientos que poseas, elabora un INFORME sobre los factores geográficos del clima peninsular.



UNIVERSITAT D'ALICANT
UNIVERSIDAD DE ALICANTE



UNIVERSITAT JAUME I
DE CASTELLÓ



UNIVERSITAT MIGUEL HERNÁNDEZ DE LIX
UNIVERSIDAD MIGUEL HERNÁNDEZ DE LIX



UNIVERSITAT DE VALÈNCIA
(ESTUDI GENERAL)



UNIVERSITAT POLITÈCNICA DE VALÈNCIA
UNIVERSIDAD POLITÉCNICA DE VALÈNCIA



PROVES D'ACCÉS A FACULTATS, ESCOLES TÈCNiques SUPERIORS I COL·LEGIS UNIVERSITARIS
PRUEBAS DE ACCESO A FACULTADES, ESCUELAS TÉCNICAS SUPERIORES Y COLEGIOS UNIVERSITARIOS

CONVOCATÒRIA DE _____ / CONVOCATORIA DE SEPTEMBRE / SEPTIEMBRE 2000

MODALITAT DEL BATXILLERAT (LOGSE): d'Humanitats i Ciències Socials
MODALIDAD DEL BACHILLERATO (LOGSE): de Humanidades y Ciencias Sociales

IMPORTANT / IMPORTANTE

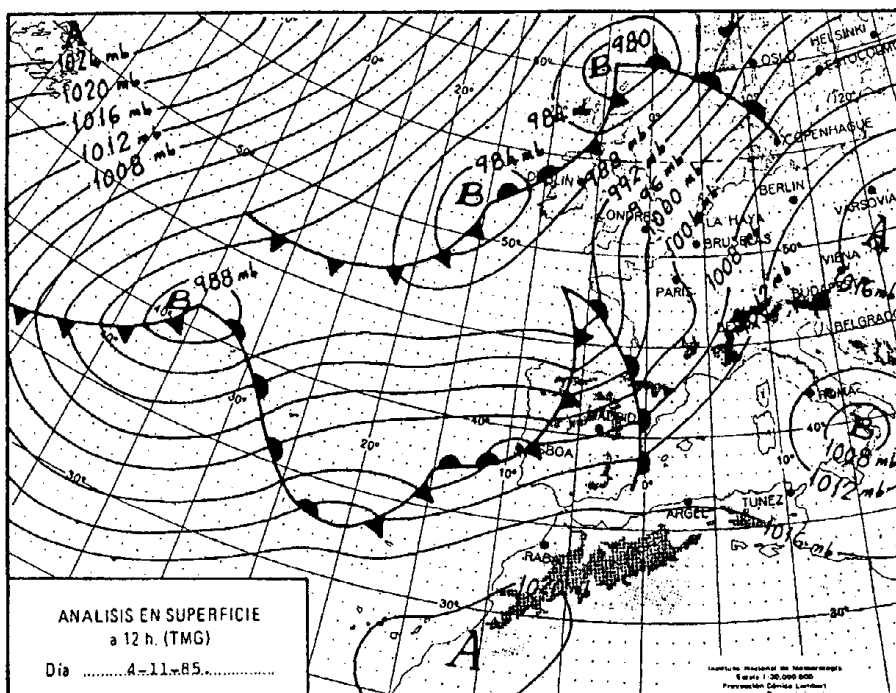
2n exercici 2º ejercicio	GEOGRAFIA GEOGRAFÍA	Obligatòria en l'opció de Ciències Socials i optativa en altres Obligatoria en la opción de Ciencias Sociales y optativa en otras	90 minuts 90 minutos
-----------------------------	------------------------	--	-------------------------

Barem/Baremo: 2,5 punts per pregunta / 2,5 puntos por pregunta

Trieu un dels dos exercicis proposats

Elige uno de los dos ejercicios propuestos

DOCUMENTO 1 / DOCUMENT 1





UNIVERSITAT D'ALACANT
UNIVERSIDAD DE ALICANTE



UNIVERSITAT JAUME I
DE CASTELLÓ



UNIVERSITAT MIGUEL HERNÁNDEZ DE LEX
UNIVERSIDAD MIGUEL HERNÁNDEZ DE LEX



UNIVERSITAT DE VALÈNCIA
(ESTUDI GENERAL)



UNIVERSITAT POLITÈCNICA DE VALÈNCIA
UNIVERSIDAD POLITÉCNICA DE VALÈNCIA



PROVES D'ACCÉS A FACULTATS, ESCOLES TÈCNiques SUPERIORS I COL·LEGIS UNIVERSITARIS
PRUEBAS DE ACCESO A FACULTADES, ESCUELAS TÉCNICAS SUPERIORES Y COLEGIOS UNIVERSITARIOS

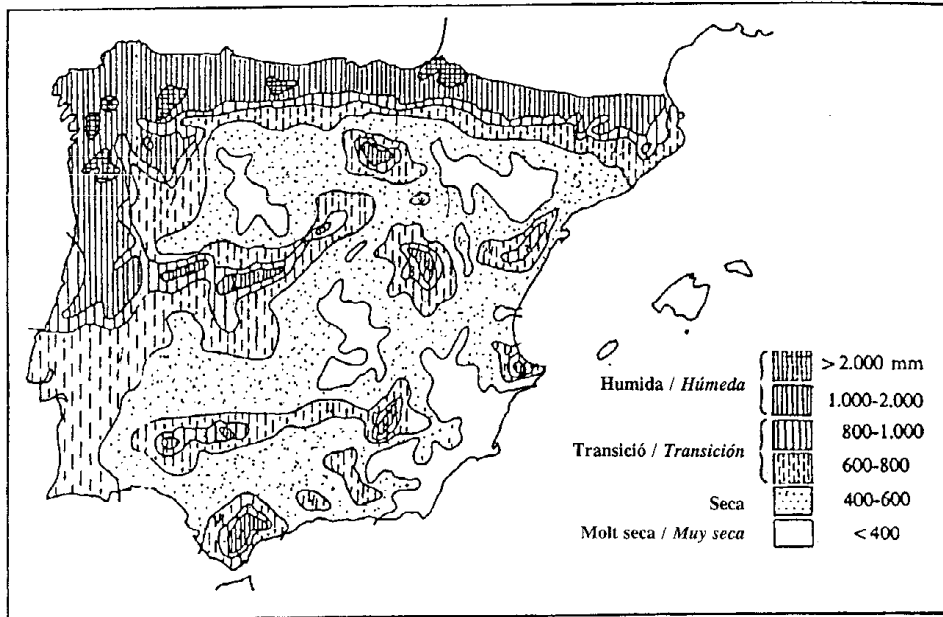
CONVOCATÒRIA DE _____ / CONVOCATORIA DE **SETEMBRE / SEPTIEMBRE 2000**

MODALITAT DEL BATXILLERAT (LOGSE): d'Humanitats i Ciències Socials
MODALIDAD DEL BACHILLERATO (LOGSE): de Humanidades y Ciencias Sociales

IMPORTANT / IMPORTANT

2n exercici 2º ejercicio	GEOGRAFIA GEOGRAFÍA	Obligatori en l'opció de Ciències Socials i optativa en altres Obligatoria en la opción de Ciencias Sociales y optativa en otras	90 minuts 90 minutos
Barem/Baremo: _____			

DOCUMENT 2 / DOCUMENTO 2



Precipitacions mitjanes anuals
Precipitaciones medias anuales



UNIVERSITAT D'ALACANT
UNIVERSIDAD DE ALICANTE



UNIVERSITAT JAUME I
DE CASTELLÓ



UNIVERSITAT MIGUEL HERNÁNDEZ DE BILBAO
UNIVERSIDAD MIGUEL HERNÁNDEZ DE BILBAO



UNIVERSITAT DE VALÈNCIA
(ESTUDI GENERAL)



UNIVERSITAT POLITÈCNICA DE VALÈNCIA
UNIVERSIDAD POLITÉCNICA DE VALÈNCIA



PROVES D'ACCÉS A FACULTATS, ESCOLES TÈCNiques SUPERIORS I COL·LEGIS UNIVERSITARIS
PRUEBAS DE ACCESO A FACULTADES, ESCUELAS TÉCNICAS SUPERIORES Y COLEGIOS UNIVERSITARIOS

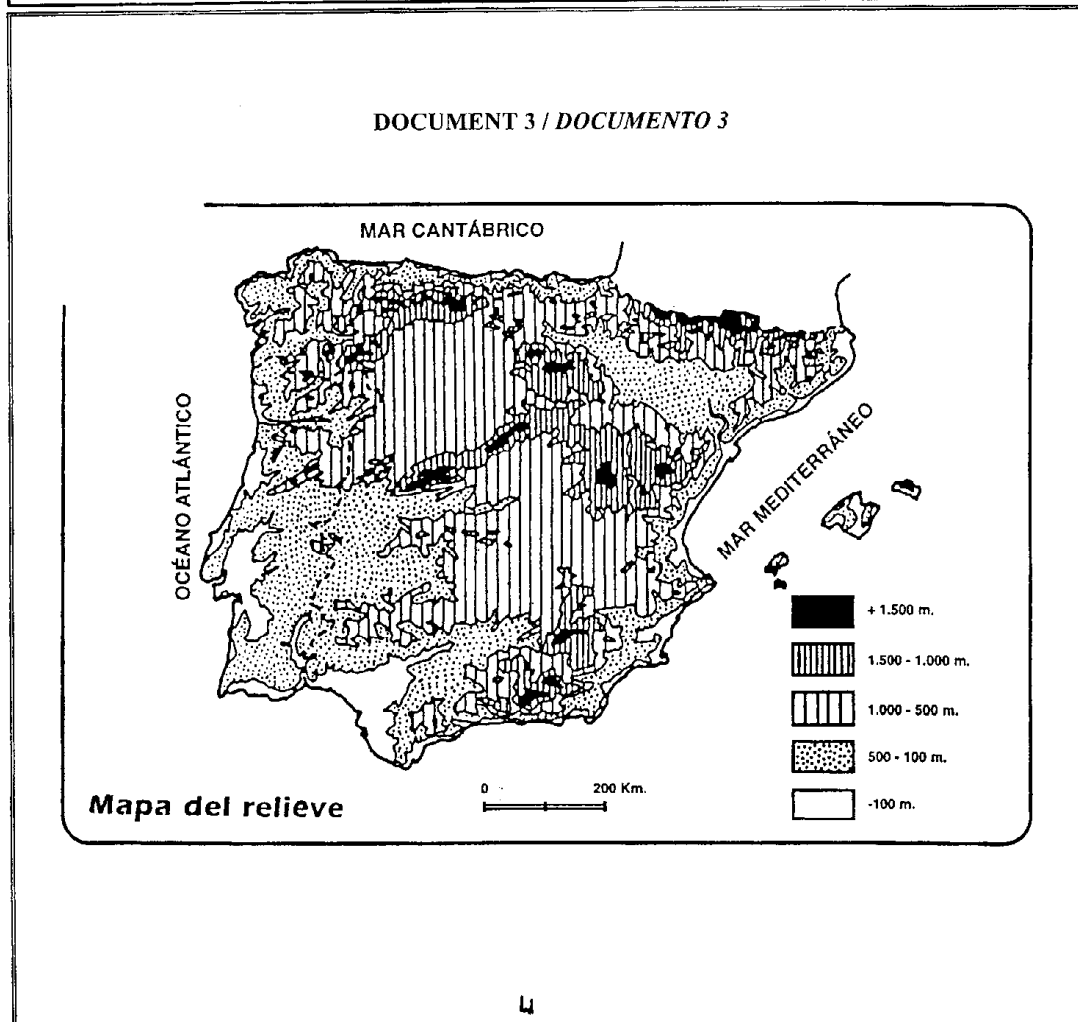
CONVOCATÒRIA DE _____ / CONVOCATORIA DE **SETEMBRE / SEPTIEMBRE 2000**

MODALITAT DEL BATXILLERAT (LOGSE): d'Humanitats i Ciències Socials
MODALIDAD DEL BACHILLERATO (LOGSE): de Humanidades y Ciencias Sociales

IMPORTANT / IMPORTANT

2n exercici 2º ejercicio	GEOGRAFIA GEOGRAFÍA	Obligatòria en l'opció de Ciències Socials i optativa en altres Obligatoria en la opción de Ciencias Sociales y optativa en otras	90 minuts 90 minutos
Barem/Baremo: _____			

DOCUMENT 3 / DOCUMENTO 3





UNIVERSITAT D'ALACANT
UNIVERSIDAD DE ALICANTE



UNIVERSITAT JAUME I
DE CASTELLÓ



UNIVERSITAT MIGUEL HERNÁNDEZ DE LEX
UNIVERSIDAD MIGUEL HERNÁNDEZ DE LEX



UNIVERSITAT DE VALÈNCIA
(ESTUDI GENERAL)



UNIVERSITAT POLITÈCNICA DE VALÈNCIA
UNIVERSIDAD POLITÉCNICA DE VALÈNCIA



PROVES D'ACCÉS A FACULTATS, ESCOLES TÈCNiques SUPERIORS I COL·LEGIS UNIVERSITARIS
PRUEBAS DE ACCESO A FACULTADES, ESCUELAS TÉCNICAS SUPERIORES Y COLEGIOS UNIVERSITARIOS

CONVOCATÒRIA DE _____

/ CONVOCATORIA DE _____

SETEMBRE / SEPTIEMBRE 2000

MODALITAT DEL BATXILLERAT (LOGSE): **d'Humanitats i Ciències Socials**
MODALIDAD DEL BACHILLERATO (LOGSE): **de Humanidades y Ciencias Sociales**

IMPORTANTE / IMPORTANT

2n. exercici 2º ejercicio	GEOGRAFIA GEOGRAFÍA	Obligatòria en l'Opció de Ciències Socials i optativa en altres Obligatoria en la Opción de Ciencias Sociales y optativa en otras	90 minuts 90 minutos
Barem/Baremo: 2,5 punts per pregunta / 2,5 puntos por pregunta			
Trieu un dels dos exercicis proposats			
Elige uno de los dos ejercicios propuestos			

EXERCICI 2

1. Les comunitats autònomes presenten considerables desigualtats. Quines són les majors diferències que es reflecteixen en la estadística presentada en el document 1? Expressen gràficament aquestes disparitats en el mapa que s'adjunta.
2. A més de les anteriors, podem detectar importants diferències socioeconòmiques entre les diferents comunitats autònomes, com és el cas d'Extremadura i la Comunitat Valenciana. Analitzeu les dades aportades en els documents 2 i 3 referits a aquestes dues comunitats autònomes.
3. L'actual estructuració del territori espanyol en comunitats autònomes, a pesar de la política d'incentivació regional i de correcció dels desequilibris interterritorials, continua oferint una clara dicotomia entre zones més desenvolupades i altres de menys afavorides. Analitzeu el document 4 i comenteu el que pot haver suposat, per a aquesta política de correcció, la crisi econòmica del bienni 1992-1993.
4. D'acord amb tot el que heu expressat en les qüestions anteriors, redacteu un informe sobre el passat, el present i el futur de l'Espanya de les autonomies.

EJERCICIO 2

1. Las Comunidades Autónomas presentan considerables desigualdades. ¿Cuáles son las mayores diferencias que se reflejan en la estadística que se ofrece en el Documento 1? Expresa gráficamente estas disparidades en el mapa que se adjunta.
2. Además de las anteriores se pueden detectar importantes diferencias socioeconómicas entre las distintas Comunidades Autónomas, como es el caso de Extremadura y la Comunidad Valenciana. Analiza los datos aportados en los Documentos 2 y 3 referidos a ambas.
3. La actual estructuración del territorio español en Comunidades Autónomas, pese a la política de incentivación regional y de corrección de desequilibrios interterritoriales, continúa ofreciendo una clara dicotomía entre zonas más desarrolladas y otras menos favorecidas. Analiza el Documento 4 y expresa lo que puede haber supuesto, para esa política de corrección, la crisis económica del bienio 1992-1993.
4. En función de todo lo expresado en las cuestiones anteriores, redacta un INFORME sobre el pasado, presente y futuro de la España de las Autonomías.



UNIVERSITAT D'ALACANT
UNIVERSIDAD DE ALICANTE



UNIVERSITAT JAUME I
DE CASTELLÓ



UNIVERSITAT MIGUEL HERNÁNDEZ D'ELX
UNIVERSIDAD MIGUEL HERNÁNDEZ DE EL-DE



UNIVERSITAT DE VALÈNCIA
(ESTUDI GENERAL)



UNIVERSITAT POLITÈCNICA DE VALÈNCIA
UNIVERSIDAD POLITÉCNICA DE VALÈNCIA



PROVES D'ACCÉS A FACULTATS, ESCOLES TÈCNiques SUPERIORES I COL·LEGIS UNIVERSITARIS
PRUEBAS DE ACCESO A FACULTADES, ESCUELAS TÉCNICAS SUPERIORES Y COLEGIOS UNIVERSITARIOS

CONVOCATÒRIA DE _____ / CONVOCATORIA DE **SETEMBRE / SEPTIEMBRE 2000**

MODALITAT DEL BATXILLERAT (LOGSE): d'Humanitats i Ciències Socials
MODALIDAD DEL BACHILLERATO (LOGSE): de Humanidades y Ciencias Sociales

DOCUMENT 1. Les comunitats autònomes espanyoles
DOCUMENTO 1. Las comunidades autónomas españolas

	Nombre de provincies - Número provincias	Nombre de municipis - Número municipios	Superfície (km ²)	Població total - Población total	Densitat - Densidad
Andalusia / Andalucía	8	766	87.268	7.234.873	83
Aragó / Aragón	3	729	47.650	1.187.546	25
Astúries / Asturias	1	78	10.565	1.087.885	103
Balears	1	67	5.014	760.379	152
Canàries / Canarias	2	87	7.242	1.606.534	222
Cantàbria / Cantabria	1	102	5.289	527.437	100
Castella - La Manxa / Castilla - La Mancha	5	915	79.230	1.712.529	22
Castella-Lleó / Castilla- León	9	2.248	94.193	2.508.496	27
Catalunya	4	942	31.930	6.090.040	191
Comunitat Valenciana	3	539	23.305	4.009.329	172
Euskadi	3	247	7.261	2.098.055	289
Extremadura	2	380	41.602	1.070.244	26
Galícia / Galicia	4	312	29.434	2.742.622	93
La Rioja	1	174	5.034	264.941	53
Madrid	1	178	7.995	5.022.289	628
Múrcia / Murcia	1	45	11.317	1.097.249	97
Navarra	1	265	10.421	520.574	50
Espanya / España	50	8.047	504.750	39.669.394	79



UNIVERSITAT D'ALACANT
UNIVERSIDAD DE ALICANTE



UNIVERSITAT JAUME I
DE CASTELLÓ



UNIVERSITAT MIGUEL HERNÁNDEZ DE B. X
UNIVERSIDAD MIGUEL HERNÁNDEZ DE B. X



UNIVERSITAT DE VALÈNCIA
(ESTUDI GENERAL)



UNIVERSITAT POLITÈCNICA DE VALÈNCIA
UNIVERSIDAD POLITÉCNICA DE VALÈNCIA

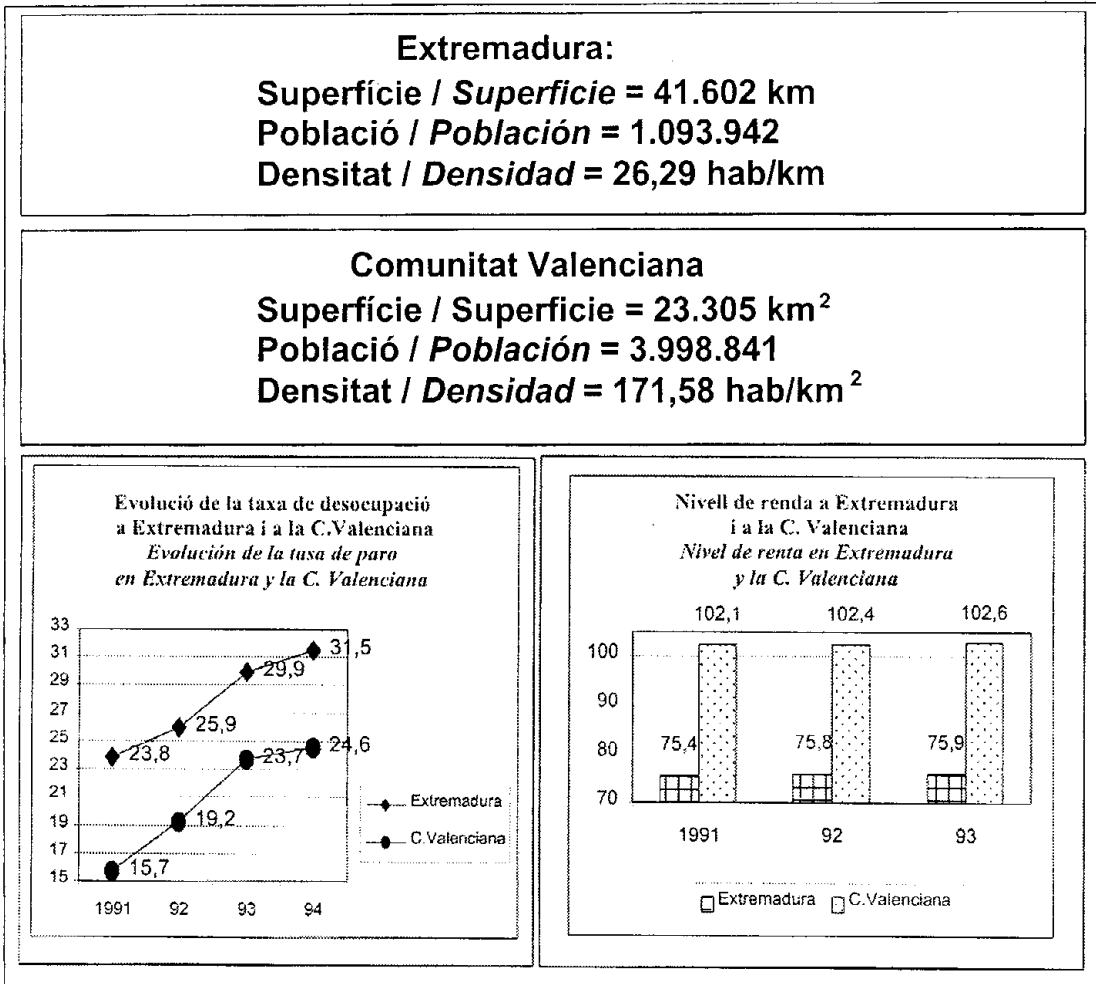


PROVES D'ACCÉS A FACULTATS, ESCOLES TÈCNiques SUPERIORS I COL·LEGIS UNIVERSITARIS
PRUEBAS DE ACCESO A FACULTADES, ESCUELAS TÉCNICAS SUPERIORES Y COLEGIOS UNIVERSITARIOS

CONVOCATÒRIA DE _____ / CONVOCATORIA DE SETEMBRE SEPTIEMBRE 2000

MODALITAT DEL BATXILLERAT (LOGSE): d'Humanitats i Ciències Socials
MODALIDAD DEL BACHILLERATO (LOGSE): de Humanidades y Ciencias Sociales

DOCUMENT 2. Situació socioeconòmica a Extremadura i la Comunitat Valenciana
DOCUMENTO 2. Situación socioeconómica en Extremadura y la Comunidad Valenciana





UNIVERSITAT D'ALACANT
UNIVERSIDAD DE ALICANTE



UNIVERSITAT JAUME I
DE CASTELLÓ



UNIVERSITAT MIGUEL HERNÁNDEZ DE B. X.
UNIVERSIDAD MIGUEL HERNÁNDEZ DE B. X.



UNIVERSITAT DE VALÈNCIA
(ESTUDI GENERAL)



UNIVERSITAT POLITÈCNICA DE VALÈNCIA
UNIVERSIDAD POLITÉCNICA DE VALÈNCIA



PROVES D'ACCÉS A FACULTATS, ESCOLES TÈCNiques SUPERIORS I COL·LEGIS UNIVERSITARIS
PRUEBAS DE ACCESO A FACULTADES, ESCUELAS TÉCNICAS SUPERIORES Y COLEGIOS UNIVERSITARIOS

CONVOCATÒRIA DE _____ / CONVOCATORIA DE SEPTIEMBRE SEPTIEMBRE 2005
MODALITAT DEL BATXILLERAT (LOGSE): d'Humanitats i Ciències Socials
MODALIDAD DEL BACHILLERATO (LOGSE): de Humanidades y Ciencias Sociales

DOCUMENTO 3 / DOCUMENT 3

Extremadura: subsidios e inversión para mitigar la pobreza

Extremadura es una región que se caracteriza principalmente por su carácter rural. No obstante, en los últimos años el sector servicios está ocupando una porción importante en el campo laboral. Según los expertos, la región está dotada de sistemas modernos de producción que convierten a Extremadura en el lugar idóneo para el desarrollo de la agroindustria, aspecto que el Gobierno autónomo ha intentado fomentar a través de ayudas tanto a empresarios extremeños como a los ajenos a la Comunidad.

La debilidad y estrangulamiento industrial extremeño se está intentando superar gracias a los recursos agrícolas, energéticos, mineros y cinegéticos, sin olvidarse del sector del turismo, que en los últimos tres o cuatro años ha experimentado un auge considerable contribuyendo a la mejora económica de la región.

A lo largo de los últimos años, se ha venido produciendo una serie de inversiones por parte de empresas nacionales e internacionales, que han mejorado la economía extremeña. Sin embargo, algunas empresas han dejado una huella negativa, como la empresa italiana Asfalti Sintex, con una deuda de más de 300 millones de pesetas, mientras que otras han pasado por malos momentos como las siderometalúrgicas Funditer y Extralam que, aunque no llegaron a cerrar, sí han experimentado cambios importantes en sus estructuras como empresas.

(El Mundo 11/5/95)

Comunidad Valenciana: ante los primeros signos de recuperación

La Comunidad Valenciana puede jactarse de ser una de las pocas regiones que ya ha iniciado la recuperación económica. Los indicadores macroeconómicos denotan una recuperación a nivel global, aunque los ciudadanos todavía no han experimentado la mejora en sus bolsillos y el paro continúa siendo una lacra. Hay que tener en cuenta que la crisis dejó las cifras de producción a un nivel muy bajo y que las mejoras, a pesar de ser espectaculares en algunos terrenos, son el regreso a una situación normal.

En 1994, la producción industrial valenciana aumentó un 7% respecto al ejercicio anterior y el Producto Interior Bruto (PIB) creció un 3% en comparación con 1993. Estas cifras han situado a la Comunidad Valenciana en tercer lugar, tras Cataluña y Madrid, en número de productos industriales.

La economía valenciana ha dependido tradicionalmente del comercio exterior. Las sucesivas devaluaciones, entre otros factores, han conseguido relanzar las exportaciones de manera que el año pasado, las ventas de productos valencianos al exterior crecieron casi un 30% respecto a 1993.

El turismo tampoco anda mal. La Comunidad valenciana se consolidó en 1994 como el primer destino de España en lo que respecta al turismo nacional. Sin embargo, el problema de la sequía se cieme sobre este sector de manera preocupante. Igual de preocupante es la situación, si falta agua, para los agricultores, en especial para los de la comarca de la Vega Baja, en Alicante.

(El Mundo 11/5/95)



UNIVERSITAT D'ALACANT
UNIVERSIDAD DE ALICANTE



UNIVERSITAT JAUME I
DE CASTELLÓ



UNIVERSITAT MIGUEL HERNÁNDEZ DELX
UNIVERSIDAD MIGUEL HERNÁNDEZ DE CUELLO E



UNIVERSITAT DE VALÈNCIA
(ESTUDI GENERAL)



UNIVERSITAT POLITÈCNICA DE VALÈNCIA
UNIVERSIDAD POLITÉCNICA DE VALÈNCIA

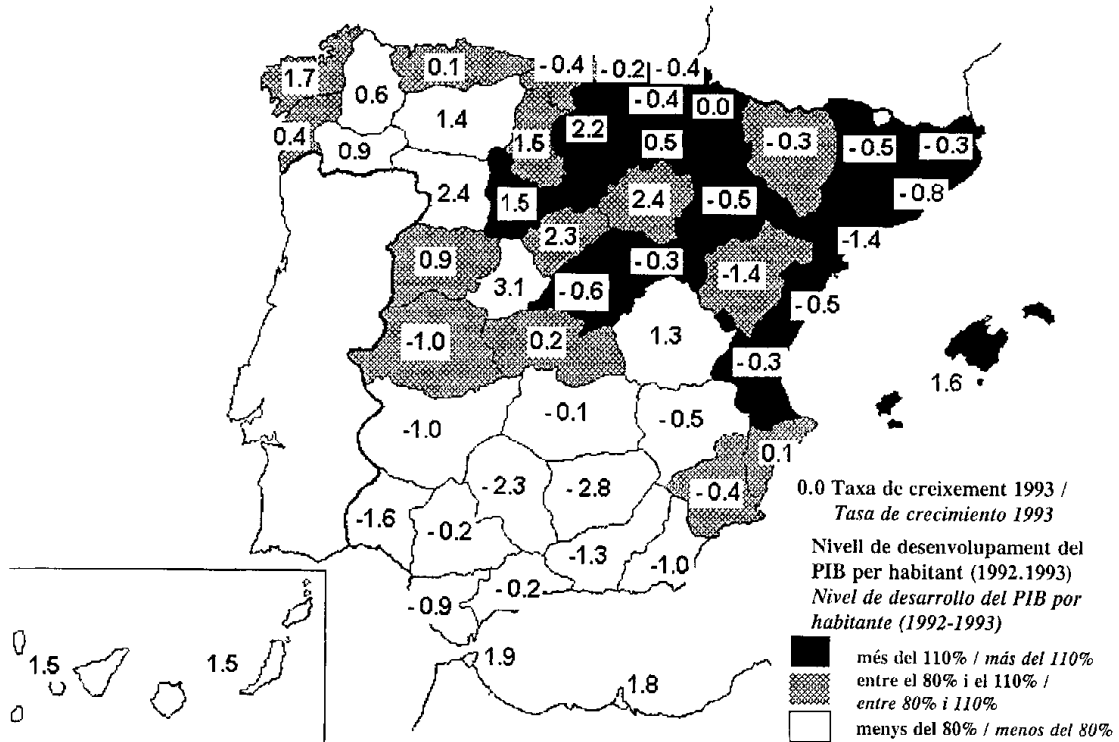


PROVES D'ACCÉS A FACULTATS, ESCOLES TÈCNiques SUPERIORS I COL·LEGIS UNIVERSITARIS
PRUEBAS DE ACCESO A FACULTADES, ESCUELAS TÉCNICAS SUPERIORES Y COLEGIOS UNIVERSITARIOS

CONVOCATÒRIA DE _____ / CONVOCATORIA DE _____

MODALITAT DEL BATXILLERAT (LOGSE): d'Humanitats i Ciències Socials
MODALIDAD DEL BACHILLERATO (LOGSE): de Humanidades y Ciencias Sociales

DOCUMENT 4. Variació del PIB (bienni 1992-1993)
DOCUMENTO 4. Variación del PIB (bienio 1992-1993)





UNIVERSITAT D'ALACANT
UNIVERSIDAD DE ALICANTE



UNIVERSITAT JAUME I
DE CASTELLÓ



UNIVERSITAT MIGUEL HERNÁNDEZ DE B.X
UNIVERSIDAD MIGUEL HERNÁNDEZ DE B.X



UNIVERSITAT DE VALÈNCIA
(ESTUDI GENERAL)



UNIVERSITAT POLITÈCNICA DE VALÈNCIA
UNIVERSIDAD POLITÉCNICA DE VALÈNCIA



PRUEBAS DE ACCESO A FACULTADES, ESCUELAS TÉCNICAS SUPERIORES Y COLEGIOS UNIVERSITARIOS
PROVES D'ACCÉS A FACULTATS, ESCOLES TÈCNiques SUPERIORS I COL·LEGIS UNIVERSITARIS

CONVOCATÒRIA DE _____ 2000 / CONVOCATORIA DE _____ 2000

MODALITAT DEL BATXILLERAT (LOGSE): d'Humanitats i Ciències Socials
MODALIDAD DEL BACHILLERATO (LOGSE): de Humanidades y Ciencias Sociales

IMPORTANT / IMPORTANTE

2n exercici 2º ejercicio	GEOGRAFIA GEOGRAFÍA	Obligatòria en l'opció de Ciències Socials i optativa en altres Obligatoria en la opción de Ciencias Sociales y optativa en otras	90 minuts 90 minutos
Baremo:/Barem: _____			

